

Töltsd ki a táblázatot!

□	▲	□	▲	□	▲	□	□
7	13						
4	11						
5	12						
6	9						

4



Mely számok teszik igazá a nyitott mondatokat?

$12 + 4 < \text{☀} < 20$

$\text{☀} : \underline{\hspace{2cm}}$

$18 - \text{☀} < 12$

$\text{☀} : \underline{\hspace{2cm}}$

5



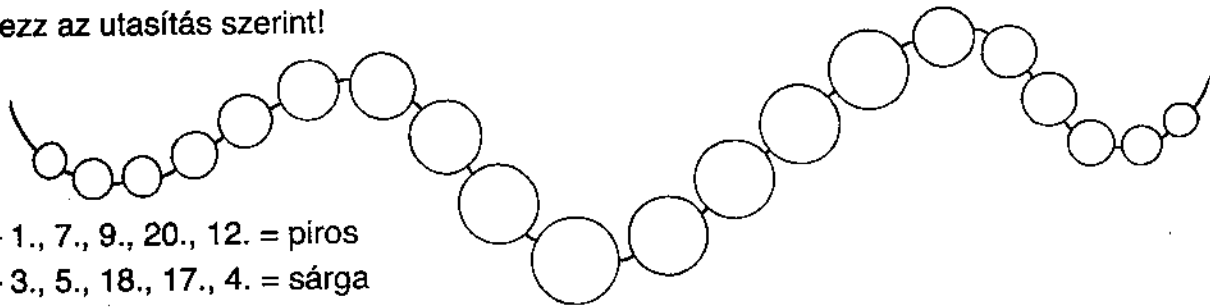
Írd le növekvő sorrendben a következő számokat, és karikázd be a páratlanokat!

16 4 9 8 17 5 20 14 18 12 10 11

1

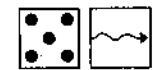


Színezz az utasítás szerint!



- 1., 7., 9., 20., 12. = piros
- 3., 5., 18., 17., 4. = sárga
- 6., 2., 8., 11., 19. = zöld
- 16., 10., 13., 14., 15. = kék

2

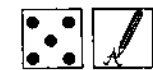


Folytasd a sort!

20 17 15

3 4 6 7

3



Írd a körökbe a műveletek eredményeit! Tedd ki a relációs jeleket!

$6 + 6$

$8 + 5$

$9 + 4$

$15 - 7$

$20 - 5$

